

1 Wahrscheinlichkeitsrechnung I

$$\text{a) } P(3 \text{ gelbe}) = \frac{5}{12} \cdot \frac{4}{11} \cdot \frac{3}{10} = \frac{1}{22}$$

b) Binomialverteilung mit $n = 10$ und $p = \frac{1}{3}$, $X =$ Anzahl rote Kugeln

$$P(X = 3) = \binom{10}{3} \cdot \left(\frac{1}{3}\right)^3 \cdot \left(\frac{2}{3}\right)^7 \approx 0.26$$

$$\text{c) } 1 - \left(\frac{3}{4}\right)^n \geq 0.99 \Rightarrow 0.01 \geq \left(\frac{3}{4}\right)^n \Rightarrow n \geq 16.007\dots$$

Man muss mindestens 17 mal ziehen.

d)

Ereignis	rot	blau	gelb
Gewinn / Verlust x_i	r	-3	-6
$P(x_i)$	$\frac{1}{4}$	$\frac{1}{3}$	$\frac{5}{12}$

$$r \cdot \frac{1}{4} + (-3) \cdot \frac{1}{3} + (-6) \cdot \frac{5}{12} = 0 \Rightarrow r = 14$$

\Rightarrow Falls eine rote Kugel gezogen wird, müssen Fr. 20.– ausbezahlt werden.

2 Wahrscheinlichkeitsrechnung II

Ereignis A: Raucher ; Ereignis B: An Lungenkrebs erkrankt

$$P(B) = 0.27 \cdot 0.15 + 0.73 \cdot 0.008 = 0.04634$$

$$P(A \cap B) = 0.27 \cdot 0.15 = 0.0405$$

$$P_B(A) = \frac{P(A \cap B)}{P(B)} = \frac{0.0405}{0.04634} \approx 87.4 \%$$

3 Vektorgeometrie

$$\text{a) } E: \vec{r} = \vec{OA} + u \cdot \vec{AB} + v \cdot \vec{AC} \Rightarrow \vec{r} = \begin{pmatrix} 3 \\ 6 \\ 5 \end{pmatrix} + u \begin{pmatrix} -1 \\ -4 \\ -1 \end{pmatrix} + v \begin{pmatrix} -4 \\ -8 \\ 0 \end{pmatrix}$$

$$\begin{array}{l} \text{I} \left| \begin{array}{l} x = 3 - u - 4v \\ y = 6 - 4u - 8v \end{array} \right| \\ \text{II} \\ \text{III} \left| \begin{array}{l} z = 5 - u \end{array} \right| \end{array} \Rightarrow 2 \cdot \text{I} - \text{II} = \text{IV} : 2x - y = 2u$$

$$\text{IV} + 2 \cdot \text{III} : 2x - y + 2z = 10 \Rightarrow E: 2x - y + 2z - 10 = 0$$

b) Für die parallele Ebene H gilt:

$$H: 2x - y + 2z + d = 0$$

$$P \in H: 2 \cdot 3 - (-2) + 2 \cdot 7 + d = 0 \Rightarrow d = -22 \Rightarrow H: 2x - y + 2z - 22 = 0$$

c) $h \cap E: 2(-3 + 2t) - (-2 + 2t) + 2(1 + t) - 10 = 0 \Rightarrow 4t - 12 = 0 \Rightarrow t = 3$

$$\vec{r} = \begin{pmatrix} -3 \\ -2 \\ 1 \end{pmatrix} + 3 \begin{pmatrix} 2 \\ 2 \\ 1 \end{pmatrix} = \begin{pmatrix} 3 \\ 4 \\ 4 \end{pmatrix} \Rightarrow D(3|4|4)$$

Oder alternativ mit F: $t = 4 \Rightarrow D_F(5|6|5)$

d) Abstand des Punktes P von der Geraden h:

Sei F der Lotfusspunkt auf der Geraden h, dann gilt: $\vec{v}_h \cdot \vec{FP} = 0$

$$\begin{pmatrix} 2 \\ 2 \\ 1 \end{pmatrix} \cdot \begin{pmatrix} 3 - (-3 + 2t) \\ -2 - (-2 + 2t) \\ 7 - (1 + t) \end{pmatrix} = 0 \Rightarrow \begin{pmatrix} 2 \\ 2 \\ 1 \end{pmatrix} \cdot \begin{pmatrix} 6 - 2t \\ -2t \\ 6 - t \end{pmatrix} = 0$$

$$2(6 - 2t) + 2(-2t) + 6 - t = 0 \Rightarrow 18 - 9t = 0 \Rightarrow t = 2$$

$$\vec{FP} = \begin{pmatrix} 6 - 4 \\ -4 \\ 6 - 2 \end{pmatrix} = \begin{pmatrix} 2 \\ -4 \\ 4 \end{pmatrix} \Rightarrow |\vec{FP}| = \sqrt{2^2 + (-4)^2 + 4^2} = 6$$

e) $\vec{AC} = \begin{pmatrix} -4 \\ -8 \\ 0 \end{pmatrix} \Rightarrow g: \vec{r} = \begin{pmatrix} 3 \\ 6 \\ 5 \end{pmatrix} + s \begin{pmatrix} -4 \\ -8 \\ 0 \end{pmatrix}$

Es existiert kein k, so dass $\begin{pmatrix} -4 \\ -8 \\ 0 \end{pmatrix} = k \begin{pmatrix} 2 \\ 2 \\ 1 \end{pmatrix} \Rightarrow g$ und h nicht parallel

g und h windschief oder sich schneidend:

$$g \cap h: \begin{cases} 3 - 4s = -3 + 2t \\ 6 - 8s = -2 + 2t \end{cases} \Rightarrow s = \frac{1}{2} \Rightarrow t = 2$$

s und t in 3. Zeile eingesetzt: $5 + 0 \cdot \frac{1}{2} = 1 + 2 \cdot 1 \Rightarrow 5 = 3$

Widerspruch, also g und h windschief.

4 Folgen und Reihen

a) $d = -3x - (2x + 2) = 4x - 8 - (-3x)$

$$\Rightarrow x = \frac{1}{2} \Rightarrow 3, -\frac{3}{2}, -6 \Rightarrow d = -\frac{9}{2}$$

b) $q = \frac{-3x}{2x+2} = \frac{4x-8}{-3x} \Rightarrow (x+4)^2 = 0$

$$\Rightarrow x = -4 \Rightarrow -6, 12, -24 \Rightarrow q = -2$$

5 Differentialrechnung

$$f(x) = -\frac{1}{3}x^3 + 2x^2 \quad ; \quad f'(x) = -x^2 + 4x \quad ; \quad f''(x) = -2x + 4 \quad ; \quad f'''(x) = -2$$

a) Nullstellen:

$$-\frac{1}{3}x^3 + 2x^2 = 0 \Rightarrow x^2 \left(-\frac{1}{3}x + 2 \right) = 0 \Rightarrow x_1 = 0, x_2 = 6$$

Extremalpunkte:

$$-x^2 + 4x = 0 \Rightarrow x(-x + 4) = 0 \Rightarrow x_3 = 0, x_4 = 4$$

$$f''(0) = 4 > 0 \Rightarrow T(0 | 0)$$

$$f''(4) = -4 < 0 \Rightarrow H\left(4 \mid \frac{32}{3}\right)$$

b) Wendepunkt:

$$-2x + 4 = 0 \Rightarrow x_5 = 2$$

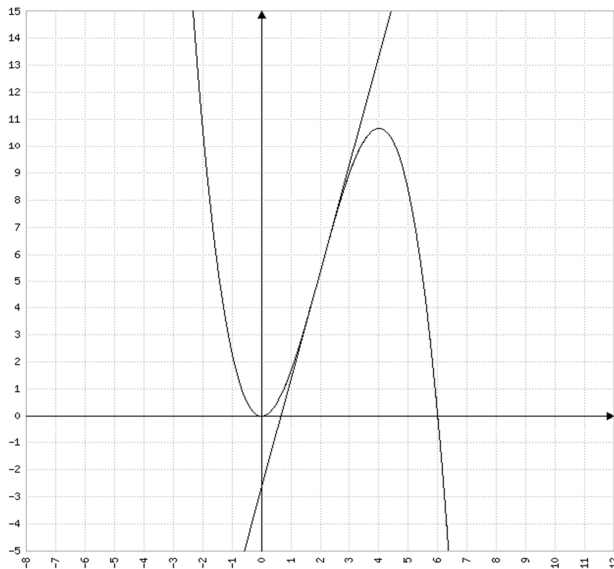
$$f'''(2) \neq 0 \Rightarrow W\left(2 \mid \frac{16}{3}\right)$$

Wendetangente:

$$m = f'(2) = 4 \Rightarrow t(x) = 4x + q$$

$$W \in t \Rightarrow \frac{16}{3} = 4 \cdot 2 + q \Rightarrow q = -\frac{8}{3} \Rightarrow t(x) = 4x - \frac{8}{3}$$

c) Graphen



$$d) f_a(x) = a x^3 + 2 x^2 ; f_a'(x) = 3 a x^2 + 4 x ; f_a''(x) = 6 a x + 4$$

Nullstelle:

$$a x^3 + 2 x^2 = 0 \Rightarrow x^2 (a x + 2) = 0$$

$$x \neq 0 \Rightarrow x = -\frac{2}{a}$$

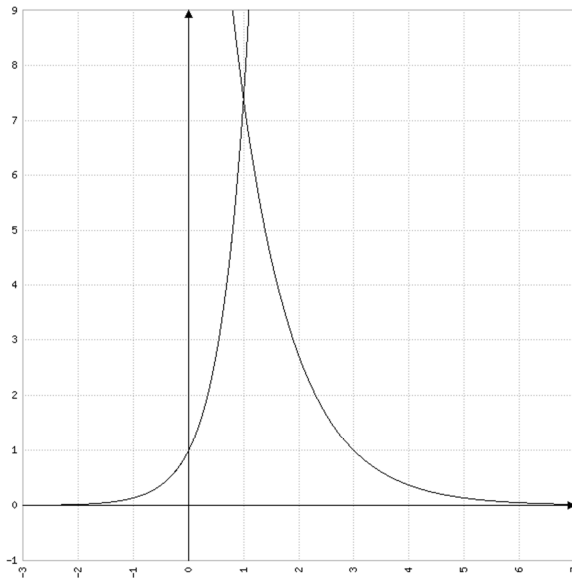
Steigung:

$$f_a' \left(-\frac{2}{a} \right) = 3 a \left(-\frac{2}{a} \right)^2 + 4 \left(-\frac{2}{a} \right) = \frac{12}{a} - \frac{8}{a} = \frac{4}{a}$$

$$\Rightarrow \frac{4}{a} = -4 \Rightarrow a = -1$$

6 Integralrechnung

$$a) e^{3-x} = e^{2x} \Rightarrow 3-x = 2x \Rightarrow x = 1 \Rightarrow S(1 | e^2)$$



$$b) A = \int_0^1 g(x) dx + \int_1^2 f(x) dx = \int_0^1 e^{2x} dx + \int_1^2 e^{3-x} dx$$

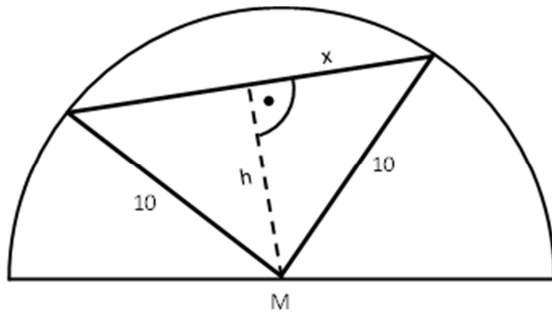
$$A = \left[\frac{1}{2} e^{2x} \right]_0^1 + \left[-e^{3-x} \right]_1^2 = \frac{e^2}{2} - \frac{1}{2} - e + e^2 = \frac{3}{2} e^2 - e - \frac{1}{2}$$

$$A \approx 7.87$$

$$c) \lim_{k \rightarrow \infty} \int_a^k e^{3-x} dx = \lim_{k \rightarrow \infty} \left[-e^{3-x} \right]_a^k = \lim_{k \rightarrow \infty} \left(-e^{3-k} + e^{3-a} \right) = e^{3-a}$$

$$e^{3-a} = 1 \Rightarrow 3-a = 0 \Rightarrow a = 3$$

7 Extremwertaufgabe



$$\text{Hauptbedingung: } A = 2 \cdot \frac{x h}{2} = x h$$

$$\text{Nebenbedingung: } x^2 = 100 - h^2 \Rightarrow x = \sqrt{100 - h^2}$$

$$\text{Zielfunktion: } A(h) = h \sqrt{100 - h^2}$$

A) Lösungsweg mit quadrierter Zielfunktion:

$$A^2(h) = h^2 (100 - h^2) = 100 h^2 - h^4$$

$$(A^2)'(h) = 200 h - 4 h^3 = 0 \Rightarrow h (50 - h^2) = 0 \Rightarrow h = \sqrt{50}$$

$$\Rightarrow x = \sqrt{50} \Rightarrow A = 50$$

B) Lösungsweg ohne quadrierte Zielfunktion:

$$A'(h) = \sqrt{100 - h^2} + \frac{h}{2 \sqrt{100 - h^2}} (-2h) = \sqrt{100 - h^2} - \frac{h^2}{\sqrt{100 - h^2}}$$

$$\Rightarrow \sqrt{100 - h^2} - \frac{h^2}{\sqrt{100 - h^2}} = 0 \quad | \cdot \sqrt{100 - h^2}$$

$$\Rightarrow 100 - h^2 - h^2 = 0 \Rightarrow h = \sqrt{50} \Rightarrow x = \sqrt{50} \Rightarrow A = 50$$

Alternative Lösung:

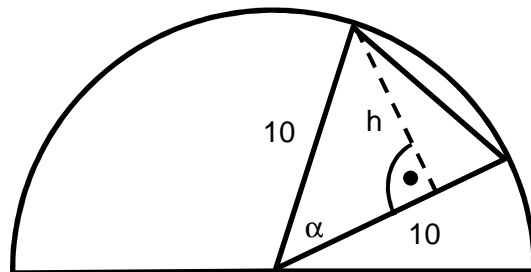
$$A = \frac{r h}{2} = 5 h$$

$$\sin \alpha = \frac{h}{r} \Rightarrow h = r \sin \alpha = 10 \sin \alpha$$

$$\Rightarrow \text{Zielfunktion: } A(\alpha) = 50 \sin \alpha$$

$$A'(\alpha) = 50 \cos \alpha = 0 \Rightarrow \alpha = 90^\circ$$

$$\Rightarrow A(90^\circ) = 50$$



8 Kreis

a) $k: x^2 - 6x + y^2 - 8y = 0$

Quadratisch Ergänzen ergibt: $(x-3)^2 + (y-4)^2 = 25 \Rightarrow M(3|4), r = 5$

b) A) Lösungsweg über den Mittelpunkt und die Normale

$$n: y = -\frac{4}{3}x + q$$

$$M \in n \Rightarrow 4 = -\frac{4}{3} \cdot 3 + q \Rightarrow q = 8 \Rightarrow n: y = -\frac{4}{3}x + 8$$

$$n \cap k: (x-3)^2 + \left(-\frac{4}{3}x + 8 - 4\right)^2 = 25 \Rightarrow (x-3)^2 + \left(-\frac{4}{3}x + 4\right)^2 = 25$$

$$\Rightarrow x^2 - 6x + 9 + \frac{16}{9}x^2 - \frac{32}{3}x + 16 = 25 \Rightarrow \frac{25}{9}x^2 - \frac{50}{3}x = 0$$

$$\Rightarrow x(x-6) = 0 \Rightarrow x_1 = 0, x_2 = 6 \Rightarrow P_1(0|8), P_2(6|0)$$

$$t: y = \frac{3}{4}x + q$$

$$P_1 \in t_1 \Rightarrow 8 = \frac{3}{4} \cdot 0 + q \Rightarrow q = 8 \Rightarrow t_1: y = \frac{3}{4}x + 8$$

$$P_2 \in t_2 \Rightarrow 0 = \frac{3}{4} \cdot 6 + q \Rightarrow q = -\frac{9}{2} \Rightarrow t_2: y = \frac{3}{4}x - \frac{9}{2}$$

B) Lösungsweg über die Diskriminante

$$t: y = \frac{3}{4}x + q$$

$$\Rightarrow x^2 - 6x + \left(\frac{3}{4}x + q\right)^2 - 8\left(\frac{3}{4}x + q\right) = 0$$

$$\Rightarrow x^2 - 6x + \frac{9}{16}x^2 + \frac{3q}{2}x + q^2 - 6x - 8q = 0$$

$$\Rightarrow \frac{25}{16}x^2 + \left(\frac{3q}{2} - 12\right)x + q^2 - 8q = 0$$

$$D = \left(\frac{3q}{2} - 12\right)^2 - 4 \cdot \frac{25}{16}(q^2 - 8q) = 0$$

$$\Rightarrow \frac{9}{4}q^2 - 36q + 144 - \frac{25}{4}q^2 + 50q = 0 \Rightarrow -4q^2 + 14q + 144 = 0$$

$$\Rightarrow 2q^2 - 7q - 72 = 0 \Rightarrow q_{1,2} = \frac{7 \pm 25}{4}$$

$$q_1 = 8 \Rightarrow t_1: y = \frac{3}{4}x + 8$$

$$q_2 = -\frac{9}{2} \Rightarrow t_2: y = \frac{3}{4}x - \frac{9}{2}$$